













# Doppelte Symbole - Wetter

Jedes Symbol ist doppelt abgebildet! Wo?

	A	B	C	D
1				
2				
3				

1. Lösung: A1 und D3

2. Lösung: \_\_\_\_\_

3. Lösung: \_\_\_\_\_

4. Lösung: \_\_\_\_\_

5. Lösung: \_\_\_\_\_

6. Lösung: \_\_\_\_\_